



指導ポイント&ヒント

13課 おおい すくない

【内容】 求大場面における加法 / 求小場面における減法

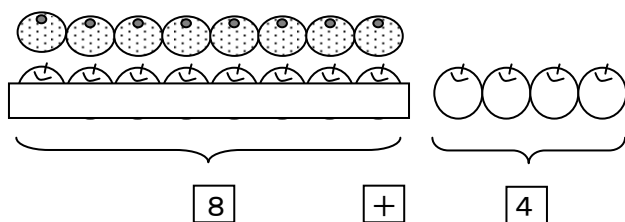
- * 求大場面：Bの個数と、AはBよりN個多いことが分かっている場面で、A（多い方）の数を求める問題。
- * 求小場面：Bの個数と、AはBよりN個少ないことが分かっている場面で、A（少ない方）の数を求める問題。

【表現】 [] は [] より [] 個 多い・少ないです。（6課と同じ）

【指導ポイント&ヒント】

- ・ 6課では、2つの物の数が分かっており、いくつ多いか少ないかを「減法」で求める場面でした。この課では一方の数が不明で、その差が分かっている場面で、不明数を計算で求めようという学習課題です。
- ・ 1から3までは、「みかんが8個あります。りんごはみかんより4個多いです。りんごは何個ありますか。」のように多い方の数が不明な場合に「加法」を使って不明数を求める場面です。前に学習した同じような場面では「減法」を使っていたので子どもは混乱しがちです。以下のように指導するとよいでしょう。

図を使って、まず、みかんとりんごが同じ範囲に同じ個数あることを確認させ、「これより4個多いから？ 足す？ 引く？ そう、足すですね。」と指導する。



「ここは同じ。だから何個？
そう8個ですね。」

「4個多いから？ 足す？ 引く？
そう、足すですね。」と言って
□に+を書き入れる。

- ・ 4から6までは、「みかんが8個あります。りんごはみかんより3個少ないです。りんごは何個ありますか。」のように少ないほうの数が不明な場合に「減法」を使って不明数を求める場面です。今度はまた「減法」を使うのですから、子どもはますます混乱します。
- ・ いずれの場合も、しっかりと図で「場面把握」させることが大事です。図を見れば、加法を使うのか減法を使うのかが一目瞭然なのですが、「言葉」だけで理解しようとするとうと混乱の局地に陥りますので注意してください。



13課
ようごとぶん

Lesson 13
Words and phrases

Leksyon 13
Mga Salita

| ようご | Words | Mga salita |
|---------|-------------------------|-----------------------------------------------|
| 4こ おおい | 4 (pieces) more than... | 4 (apat) na pirasong mas marami kaysa sa... |
| 3こ すくない | 3 (pieces) less than... | 3 (tatlong) pirasong mas kakaunti kaysa sa... |

| ぶん | Phrases | Grupo ng mga salita |
|-----------------------|---------------------------------------|---------------------------------------------------------------------|
| りんごは みかんより 4こ おおいです。 | There are 4 more apples than oranges. | Ang mansanas ay 4 (apat) na pirasong mas marami kaysa sa dalandan. |
| りんごは みかんより 3こ すくないです。 | There are 3 less apples than oranges. | Ang mansanas ay 3 (tatlong) pirasong mas kakaunti kaysa sa dalandan |

13 おおい すくない

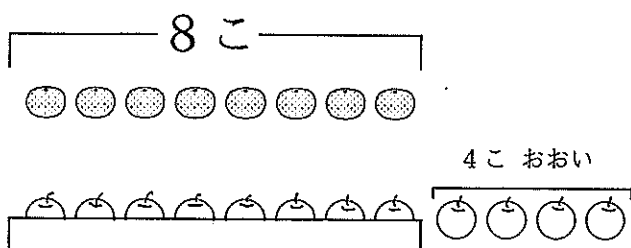
求大場面における加法の適用

1

みかんが 8 こ あります。

りんごは みかんより 4 こ おおい です。

りんごは なんこ ありますか。



りんごは

| | | |
|-------|---------|------|
| みかんより | 4 こ おおい | = 12 |
| 8 | + 4 | |

こたえ 12 こ

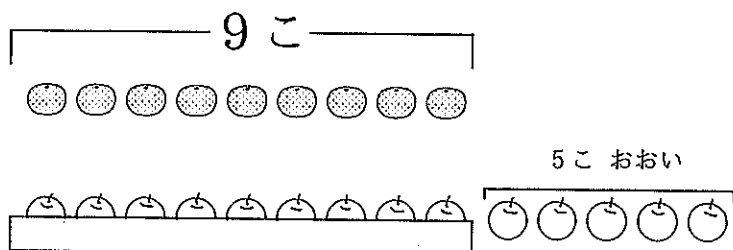


2

みかんが 9 こ あります。

りんごは みかんより 5 こ おおい です。

りんごは なんこ ありますか。



りんごは

| | | |
|-------|---------|---|
| みかんより | 5 こ おおい | = |
| | + | |

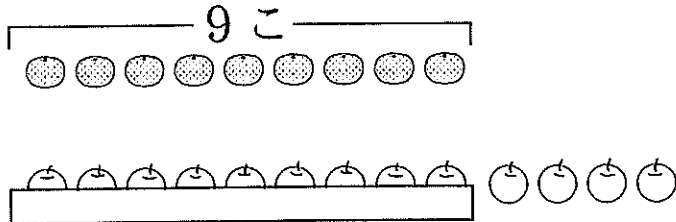
こたえ こ

3

① みかんが 9こ あります。

りんごは みかんより 4こ おおいです。

りんごは なんこ ありますか。



りんごは

| | |
|-------|-------|
| みかんより | 4こおおい |
| | + |

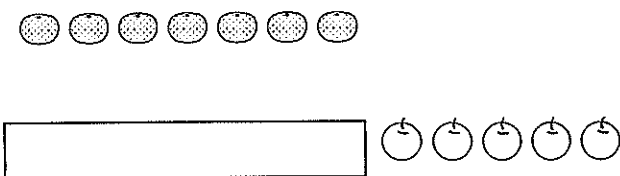
 =

 ことえ こ

② みかんが 7こ あります。

りんごは みかんより 5こ おおいです。

りんごは なんこ ありますか。



りんごは

| | |
|-------|-------|
| みかんより | 5こおおい |
| | + |

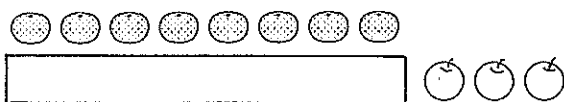
 =

 ことえ こ

③ みかんが 8こ あります。

りんごは みかんより 3こ おおいです。

りんごは なんこ ありますか。



しき

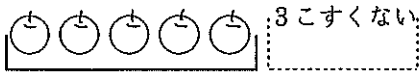
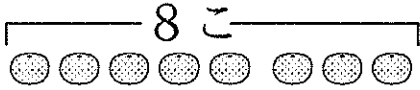
 ことえ こ

4

みかんが 8 こ あります。

りんごは みかんより 3 こ すくないです。

りんごは なんこ ありますか。



りんごは

| | |
|-------|----------|
| みかんより | 3 こ すくない |
| 8 | - 3 |

= 5

こたえ 5 こ



5

みかんが 9 こ あります。

りんごは みかんより 4 こ すくないです。

りんごは なんこ ありますか。



りんごは

| | |
|-------|----------|
| みかんより | 4 こ すくない |
| | - |

=

こたえ こ

① みかんが 7こ あります。

りんごは みかんより 3こ すくないです。

りんごは なんこ ありますか。



| | |
|-----|--------|
| りんご | 3こすくない |
|-----|--------|

| | | |
|------|-------|--------|
| りんごは | みかんより | 3こすくない |
| | | — |

=

こたえ こ

② みかんが 7こ あります。

りんごは みかんより 4こ すくないです。

りんごは なんこ ありますか。



| | |
|-----|--------|
| りんご | 4こすくない |
|-----|--------|

| | | |
|------|-------|--------|
| りんごは | みかんより | 4こすくない |
| | | |

=

こたえ こ

③ みかんが 9こ あります。

りんごは みかんより 3こ すくないです。

りんごは なんこ ありますか。



| | |
|--|--|
| | |
|--|--|

| | |
|--|--|
| | |
|--|--|

=

こたえ こ