



あわせる
ぶん
しき

juntar
Frase
Formula


こたえ
かぞえましょう

Resposta
Vamos contar.


2 あわせると

(1位数) + (1位数) / 合併場面における加法の意味


1



2こと1こ。



あわせると



3こになります。

と 。

あわせると



になります。






2

えをみて、ぶんをつくりましょう。

①

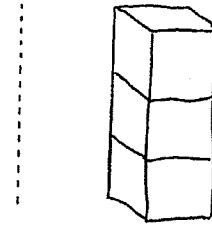
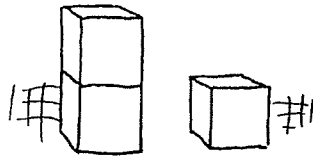


②



3

【ぶん】 2こと1こ。あわせると3こになります。



【しき】 $2 + 1 = 3$
に たす いち は さん

【こたえ】 3こ

しき

$$\square + \square = \square$$

たす は

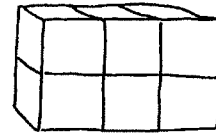
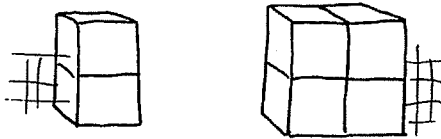
こたえ



4

ぶんとしきとこたえをかいてよみましょう。

①

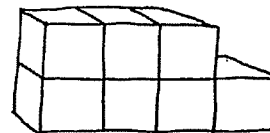
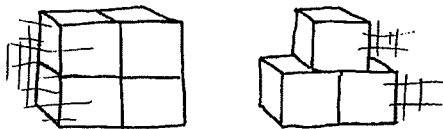


と 。あわせると になります。

$$\square + \square = \square$$

こたえ こ

②



と 。あわせると になります。

$$\square + \square = \square$$


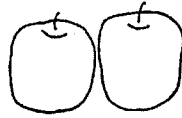
こたえ こ

5

かぞえましょう。



①

りんご



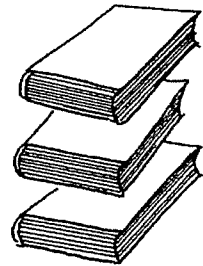


②

かみ



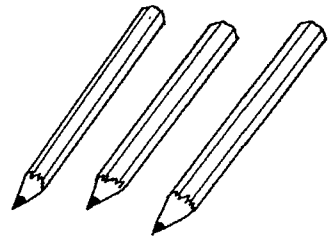

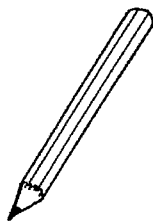
③

ほん




④

えんぴつ



⑤

ひと



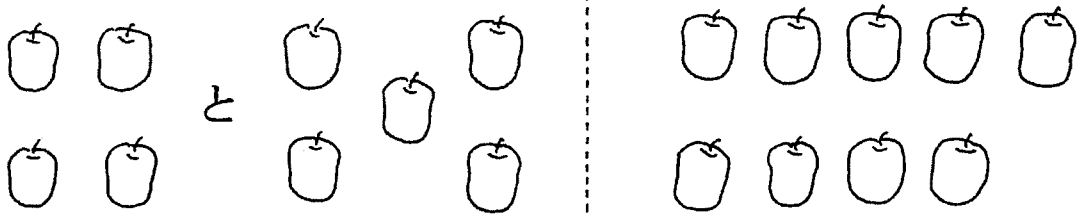
6

ノートにふんとしきとこたえをかいてよみましょう。

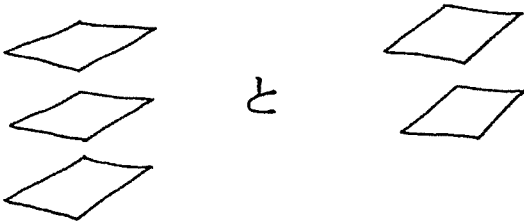
①



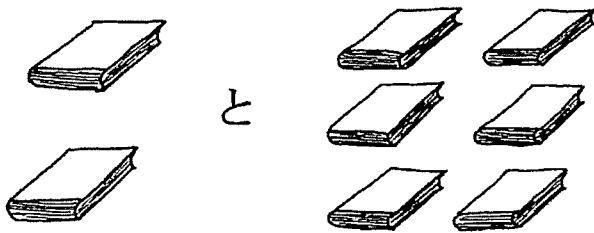
②



③



④



⑤

